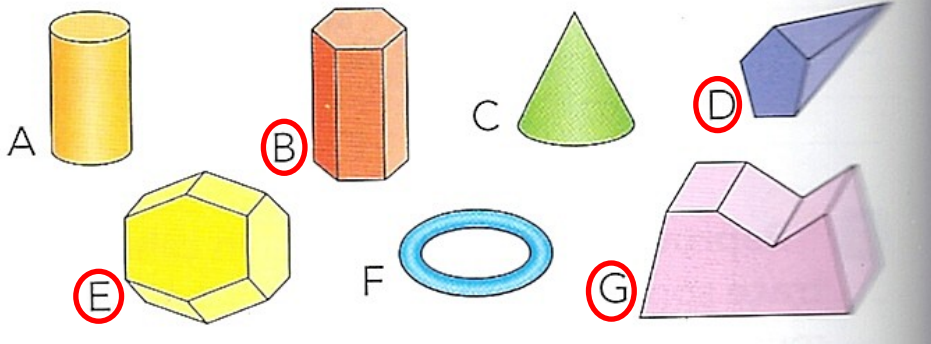


Exercices sur les solides

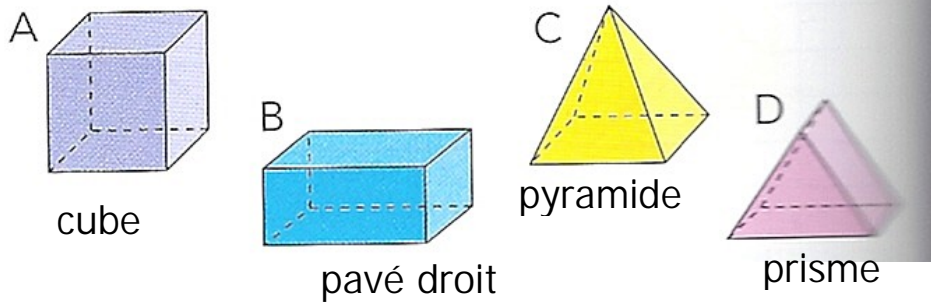
**3** Observe ces figures. Lesquelles sont des polyèdres ? Justifie ta réponse.



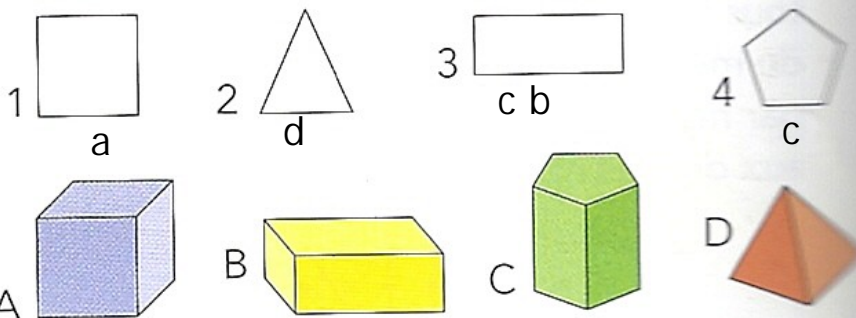
Toutes les faces sont des polygones

**4** Associe chaque polyèdre à son nom.

- a. pyramide
- b. cube
- c. prisme
- d. pavé droit



**5** De quel polyèdre chaque polygone est-il une face ?



Attention ! Il peut y avoir plusieurs solutions.